

QUESTÕES OBJETIVAS

1) Leia, com atenção, o texto abaixo.

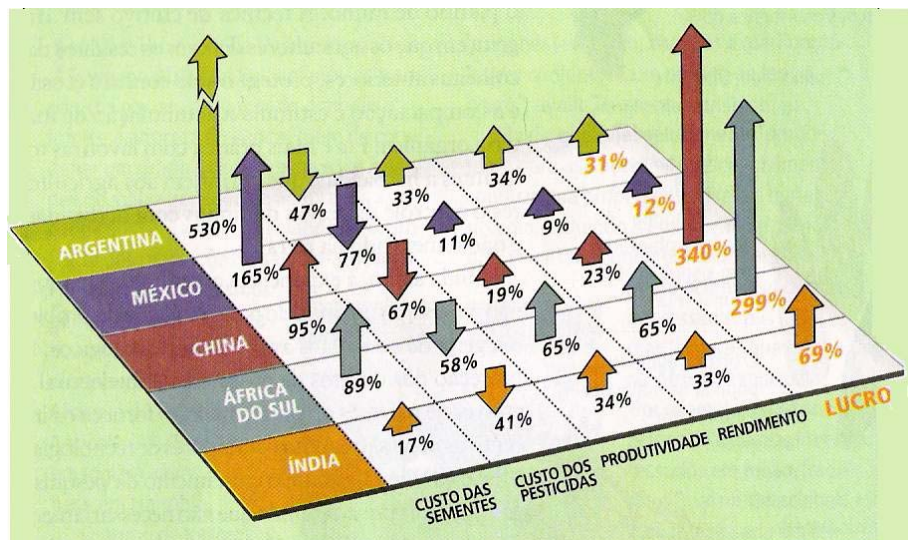
“Em Honolulu tudo é muito bem planejado, o que dá a sensação que se é um ator participando de um filme. Em nenhum outro lugar essa sensação parece ser tão forte. Ao caminhar-se, particularmente pela área dos hotéis, na praia de Waikiki, a sensação de cenário de filme se reforça. Os hotéis, uns ao lado dos outros - como grandes torres fincadas no chão - têm lobbies que se comunicam, pontuados por belíssimos (mas falsos) jardins tropicais, absolutamente simétricos, sem uma única folha caída no chão, sem nem tampouco folhas amarelecidas, fontes de água corrente, lagos com peixes coloridos, tochas, aléias serpenteadas por belos gramados de todos os tamanhos, poltronas confortáveis, bancos colocados estrategicamente e, evidentemente, muitas lojas. Tudo muito limpo. Um filme de Elvis Presley. A saída do hotel para ir à praia também não parecia menos controlada, elevadores conduziam os hóspedes das várias torres à rouparia para se pegar toalhas de praia (é claro que só depois de assinar um recibo, no qual se esclarecia sobre o uso e o horário da devolução).”

(CARLOS, Ana Fani A. O turismo e a produção do não-lugar. Disponível em: <<http://www.cefetsp.br/edu/eso/lourdes/turismoproducaonaolugar.html>>. Acesso em: 23 out. 2007.)

De acordo com o texto, a indústria do turismo:

- é uma forma de indústria gerenciada pelo turista.
- liberta as horas de lazer das regras de mercado.
- produz espaço com uma forte identidade.
- produz espaços heterogêneos e inclusivos.
- transforma tudo o que toca em artificial.

2) Leia o quadro, a seguir, que mostra a experiência dos plantadores de algodão geneticamente modificado em cinco nações em desenvolvimento.



Fonte: *Scientific American*, Brasil, n. 65, p. 80, out. 2007.

Por meio desse quadro e da Geografia da Agricultura, pode-se inferir que:

- a) os agricultores chineses obtiveram os maiores lucros porque cultivam transgênicos desenvolvidos independentemente do setor privado internacional.
 - b) os sul-africanos obtiveram elevada produtividade porque utilizam maiores quantidades de pesticidas adquiridos de companhias nacionais.
 - c) os agricultores hindus obtiveram um baixo rendimento porque financiaram toda a safra de algodão transgênico através de empréstimos internacionais.
 - d) os agricultores mexicanos dependem da ajuda dos americanos para a compra de pesticidas, o que proporciona um lucro extremamente reduzido.
 - e) os argentinos produzem algodão transgênico a partir do intenso contrabando de sementes devido à nacionalização das empresas multinacionais.
- 3) O Sudão é o cenário da crise humanitária mais grave da atualidade, só comparável à da vizinha República Democrática do Congo. Aproximadamente 2 milhões de pessoas morreram, 400 mil deixaram o país e outros 4 milhões perderam suas casas, formando a maior população de refugiados internos do mundo.

Sobre os conflitos do Sudão e da República Democrática do Congo (RDC), é **CORRETO** afirmar que,

- a) no Sudão, os adversários são grupos que divergem sobre a forma de governo.
 - b) no Sudão, os grupos paramilitares lutam pela reunificação do norte e sul.
 - c) no Sudão, a disputa por água, petróleo e terras férteis explica o conflito.
 - d) na RDC, os conflitos são alimentados por diferenças religiosas.
 - e) na RDC, os grupos rebeldes lutam pela independência do país.
- 4) Observe a figura abaixo que apresenta uma afirmativa feita por Lênin.



Fonte: *Aventuras na História. Revolução Russa – 90 anos.* São Paulo, p. 27, out. 2007. Edição de Colecionador.

A afirmativa de Lênin é representada por um período em que as duas potências, Estados Unidos e União Soviética, a fim de garantir suas áreas de influência, colocaram seus arsenais bélicos, inclusive os nucleares, em permanente exposição e assinaram tratados militares com seus aliados, criando a Organização do Tratado do Atlântico Norte (OTAN), liderada pelos Estados Unidos, e o Pacto de Varsóvia, liderado pela União Soviética. A rivalidade entre as duas potências levou o mundo a um período de tensão conhecido como:

- Guerra Fria.
- Guerra Ideológica.
- Guerra do Golfo.
- Guerra Mundial.
- Guerra do Vietnã.

5) Leia a seguinte tabela:

COMÉRCIO MUNDIAL DE PRODUTOS DE TECNOLOGIA DA INFORMAÇÃO POR REGIÕES 2005.							
EXPORTAÇÕES			IMPORTAÇÕES				
Ásia	52,4%	China	14,8%	Ásia	41,5%	China	13,2%
		Japão	10,0%			Japão	5,3%
		Singapura	7,8%			Singapura	5,6%
		Rep. da Coréia	6,1%			Rep. da Coréia	3,9%
		Outros países da Ásia	13,7%			Outros países da Ásia	13,5%
Europa	31,2%	Intra-UE*	18,4%	Europa	33,3%	UE	30,9%
		Extra-UE	11,6%			Outros países da Europa	2,4%
		Outros países da Europa	1,2%			Estados Unidos	15,8%
América do Norte	15,4%	Estados Unidos	11,8%	América do Norte	21,1%	Outros países da América do Norte	5,3%
		Outros países da América do Norte	3,6%			Todas as demais regiões	4,1%
Todas as demais regiões	1,0%	-----	-----	-----	-----	-----	-----

Fonte: *Informe sobre el comercio mundial 2007*. Ginebra (Suiza): Organización Mundial del comercio, 2007. p. 18. Adaptada.

* UE: União Européia

Por meio dessa tabela, pode-se inferir que:

- os países da ASEAN são os maiores exportadores.
- os países pobres estão excluídos desse comércio.
- os países europeus têm saldo negativo nesse comércio.
- os países do NAFTA exportam mais do que importam.
- os países do MERCOSUL destacam-se nesse comércio.

6) Leia, com atenção, o fragmento de texto abaixo.

“No próximo domingo (9/12/2007), os presidentes do Brasil, Argentina, Uruguai, Venezuela, Equador, Paraguai e Bolívia se reúnem para o lançamento oficial do Banco do Sul, em Buenos Aires (Argentina). Mais do que para ser um Banco de crédito, o Banco do Sul nasce para dar fim à dependência financeira sul-americana em relação às Instituições Financeiras Internacionais (IFIs) e às exigências neoliberais, para a liberação de crédito, feitas por essas.[...] A expectativa de Luiz Inácio da Silva, Néstor Kirchner, Tabaré Vázquez, Hugo Chávez, Rafael Correa, Nicanor Duarte Frutos e Evo Morales - presidentes dos países fundadores do Banco - é que com ele, as reservas internacionais de divisas dos países sul-americanos possam ficar na própria região, ao invés de serem colocadas nas mãos de instituições do norte.”

(Banco do Sul nasce como alternativa às Instituições Financeiras Internacionais. Disponível em: <www.adital.com.br/site/noticia.asp?lang=PT&cod=30919>. Acesso em: 7 dez. 2007.)

Essas Instituições Financeiras Internacionais são:

- a) Fórum Econômico Mundial e Comunidade Andina.
- b) Fundo Monetário Internacional e Banco Mundial.
- c) Organização das Nações Unidas e Banco Central.
- d) Organização Mundial do Comércio e Banco Europeu.
- e) Organização Mundial do Trabalho e Clube de Roma.

7) Leia, com atenção, o fragmento de texto abaixo.

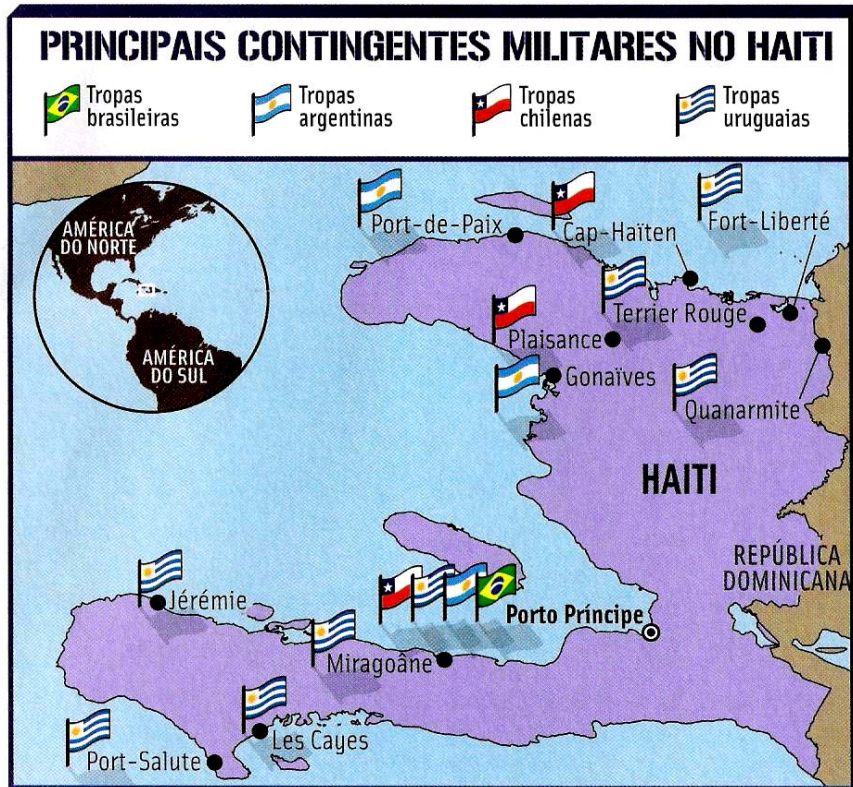
“Eu sou inglês, ou pelo menos é isso que diz meu passaporte. Outro dia, sentei na minha casa em Paris para escrever uma reportagem encomendada por um jornal argentino que eu havia apurado em Miami. Dei os últimos retoques no texto dentro do trem que atravessava a Bélgica. Ao chegar à estação central de Amsterdã, meu destino final, conectei o *notebook* à rede de Internet sem fio e, sentado num cantinho, ao lado da minha esposa americana, enviei o artigo por *e-mail* para Buenos Aires.”

(KUPER, Simon. *Você 3.0. Superinteressante*, São Paulo, v. 21, n. 8, p. 71, ago. 2007.)

A situação vivenciada pelo jornalista demonstra:

- a) a liberdade de deslocamento de quem possui passaporte inglês.
- b) a integração do mundo pelas redes materiais e imateriais.
- c) a nova divisão internacional do trabalho no século XXI.
- d) as facilidades oriundas da integração da União Européia.
- e) as fases da organização do espaço a partir do trabalho virtual.

8) Leia o mapa abaixo.



Fonte: FUSCO, Karina. As missões do Brasil. Todas as guerras do mundo. *Superinteressante*, São Paulo, v. 21, p. 71, out. 2007.


O Haiti está ocupado por uma Força de Paz da Organização das Nações Unidas (ONU), desde agosto de 2004, 6 meses depois que o então presidente, Jean-Bertrand Aristide, renunciou em meio a uma guerra entre seus partidários e milícias opositoras. Desde o início, a missão da ONU é liderada pelo Brasil.

Pode-se afirmar que um dos objetivos da Força de Paz da ONU é:

- a) garantir o Brasil no Conselho de Segurança.
- b) proteger os empreendimentos industriais.
- c) impedir a migração em massa dos haitianos.
- d) restaurar o destruído Estado democrático.
- e) resguardar a vida dos militares estrangeiros.

QUESTÕES DISCURSIVAS

1) Leia, com atenção, as tirinhas e o texto apresentados.



Fonte: QUINO. *Cada um no seu lugar*. São Paulo: Martins Fontes, 2005, p. 15.

continua na página seguinte ...

“No documentário de Silvio Tendler sobre o geógrafo Milton Santos, deparei com uma frase instigante. Em meio a suas reflexões geniais sobre os horrores da globalização neoliberal e a possibilidade de outra globalização (a globalização dos povos), o grande intelectual, há pouco falecido, de repente afirma: ‘o consumo tornou-se o maior de todos os fundamentalismos.’”

(ARANTES, José Tadeu. O novo fundamentalismo. *Le Monde Diplomatique*, Brasil, v. 1, n. 3, p. 3, out. 2007.)

Existe relação entre as tirinhas do Quino e a afirmativa de Milton Santos? Explique sua resposta.

2) Leia o fragmento de texto abaixo.

ERRATA:

Onde se lê: (...) transacionais.
Substituir por: (...) transnacionais.

“Com o aprofundamento da concorrência intercapitalista tem havido uma maior concentração e centralização do capital, seja nos setores produtivos, seja no setor bancário e financeiro, o que concede maior importância para o papel das grandes corporações **transacionais**. Na realidade, conformam-se oligopólios mundiais, responsáveis pela dominação dos principais mercados, como é o caso no setor de computadores com apenas 10 empresas controlando 70% da produção, ou de 10 empresas que respondem por 82% da produção de automóveis, ou de 8 empresas que dominam 90% do processamento de dados, ou de 8 empresas que dominam 71% do setor petroquímico ou ainda de 7 empresas que respondem por 92% do setor de material de saúde.”

(CHESNAIS apud POCHMANN, Márcio. Economia global e a nova Divisão Internacional do Trabalho. Disponível em: < <http://decon.edu.uy/network/>>. Acesso em: 16 nov. 2007.)

a) Cite duas vantagens para as grandes corporações transnacionais formarem oligopólios.

1-

2-

b) Cite e explique um efeito da ação dos oligopólios na economia dos países menos desenvolvidos.